

آزمون آنلاین استعداد تحلیلی ۷ خرداد ششم دبستان

تعداد کل سؤالها: ۱۰۰ سؤال
مدت زمان پاسخ‌گویی به آزمون: ۸۰ دقیقه

شماره‌ی سؤال	تعداد سؤال	نام درس
۱ - ۲۰	۲۰	هوش کلامی و ادبی
۲۱ - ۴۰	۲۰	هوش ریاضی و منطقی
۴۱ - ۶۰	۲۰	هوش تصویری و فضایی
۶۱ - ۱۰۰	۴۰	سرعت و دقت

طراحان	استعداد تحلیلی
امیرحسین برادران، مسعود بیگدلی، علی حبیبی، سمیرا زرگری، محمد صادقی، رضا کاشانیان، فائزه کاوسی، مسعود مرادی، زهرا مقتدری، سید محمد میرحسینی، امین یزدی‌خواه، زهرا یوسفی	

نام درس	مستول درس آزمون	ویراستاران آزمون	مستول درس مستندسازی	ویراستاران مستندسازی	گزینشگران و ویراستاران
هوش و استعداد	امیرحسین برادران	حمیدرضا رحیم‌خانلو زهرا یوسفی علی ونکی	الهه شهبازی	علیرضا زارعی میثم قانعی پرنیان جوادی	

گروه فنی تولید	مدیر تولید آزمون
	امیرحسین برادران
	مسئول دفترچه‌ی آزمون
	فرزانه خاکپاش
	امور کامپیوتری و صفحه‌آرا
	سمیه نجار
	مدیر گروه مستندسازی
	مازیار شیروانی مقدم
	مسئول دفترچه‌ی مستندسازی
	الهه شهبازی

بنیاد علمی آموزشی قلمچی (وقف عام)

دفتر مرکزی: میابان انقلاب - بین صبا و فلسطین - پلاک ۹۲۳ - ۶۴۶۳-۰۲۱

هوش کلامی ادبی

۱- رابطه‌ی معنایی «بحر» با «بر» مثل رابطه‌ی است.

- | | |
|----------------|-------------------|
| (۱) شهر با شر | (۲) آب با آتش |
| (۳) نجم با لیل | (۴) آسمان با سحاب |

۲- با توجه به رابطه‌ی کلمات زیر، به جای علامت سؤال (?) کدام گزینه قرار می‌گیرد؟

«کتاب - آبنبات - اتصال - ؟»

- | | |
|-----------|----------|
| (۱) آلو | (۲) هلو |
| (۳) شکلات | (۴) نبات |

۳- رابطه‌ی بنا با مشابه رابطه‌ی با نیست.

- | | |
|-----------------------|-------------------------|
| (۱) آجر، نویسنده، قلم | (۲) ساختمان، خیاط، لباس |
| (۳) آجر، استاد، شاگرد | (۴) ساختمان، نانوا، نان |

۴- ضرب‌المثل «آش را با جاش بردن» اشاره دارد به شخص

- | | |
|------------|--------------|
| (۱) عجول | (۲) سخاوتمند |
| (۳) پرتلاش | (۴) حریص |

در هر یک از سؤالات ۵ و ۶ شماره‌ی کلمه‌ی انتخاب شده در کدام گزینه متفاوت است؟

۵- گاهی اوقات آدم‌ها با یکدیگر گفت‌وگو نمی‌کنند ولی ارتباط برقرار می‌کنند.

- (۱) گفت‌وگو تنها راه برقراری ارتباط میان انسان‌ها (۱- است ۲- نیست)
- (۲) گفت‌وگو نکردن دلیلی بر نبودن رابطه میان انسان‌ها (۱- است ۲- نیست)
- (۳) همیشه روابط انسان‌ها بر پایه‌ی گفت‌وگو (۱- است ۲- نیست)
- (۴) اگر انسان‌ها با هم گفت‌وگو نکنند، برقراری رابطه میان آنها ممکن (۱- است ۲- نیست)

۶- امروزه آثار هنری بیشتر از ارزشی که دارند مورد توجه واقع می‌شوند.

- (۱) ارزش هنری آثار تنها دلیل توجه به آنها (۱- است ۲- نیست)
- (۲) گاهی اوقات میان ارزش هنری یک اثر و توجه به آن رابطه‌ی عکس وجود (۱- دارد ۲- ندارد)
- (۳) اگر آثار هنری بی‌ارزش باشند، همیشه به آن‌ها بی‌توجهی (۱- می‌شود ۲- نمی‌شود)
- (۴) توجه به آثار هنری، ارزش بالای آن‌ها را نشان (۱- می‌دهد ۲- نمی‌دهد)

۷- اگر بخواهیم عبارت‌های زیر را مرتب کنیم تا یک متن منطقی حاصل شود، اولین و آخرین عبارت به ترتیب از راست به چپ کدام است؟

(الف) این نظریه کاملاً مخالف آن چیزی است که طرفداران کشیش مالتوس فکر می‌کردند.

(ب) توسعه اجتماعی و فرهنگی و اقتصادی از یک طرف و رشد جمعیت از طرف دیگر با هم ارتباط متقابل دارند.

(ج) یعنی هر چه سطح توسعه پیش‌تر می‌شود، جمعیت کاهش می‌یابد.

(د) و بر اساس آن فقر و مرض و قحطی و سایر بلاها را ضروری می‌دانستند تا تعادل جمعیت برقرار شود.

(۱) ب- الف- ج- د (۲) الف- ب- ج- د (۳) ب- ج- الف- د (۴) ب- د- ج- الف

۸- اگر کلمات زیر را مرتب کنیم تا یک جمله‌ی معنی‌دار به دست آید، کلمات نهم و پنجم این جمله به ترتیب کدام است؟

«توسعه، عزمی، حرکت، به، سمت، همگانی، و، است، راسخ، نیازمند»

(۱) توسعه، عزمی (۲) نیازمند، توسعه (۳) همگانی، توسعه (۴) همگانی، نیازمند

۹- یک دستگاه رمزنگاری، کلمه (راديو) را به کلمه (زبذاه) تبدیل می‌کند. این دستگاه کلمه‌ی (تحرك) را به چه کلمه‌ای تبدیل می‌کند؟

(۱) تخرک (۲) ثچرگ (۳) پخژش (۴) ثخزگ

مشرف‌الدین مصلح بن عبدالله شیرازی شاعر و نویسنده‌ی بزرگ قرن هفتم هجری قمری است. وی احتمالاً بین سال‌های ۶۰۰ تا ۶۱۵ هجری قمری زاده شده است. در جوانی به مدرسه‌ی نظامیه‌ی بغداد رفت و به تحصیل ادب و تفسیر و فقه و کلام و حکمت پرداخت. سپس به شام و مراکش و حبشه و حجاز سفر کرد و پس از بازگشت به شیراز، به تألیف شاهکارهای خود دست یازید. وی در سال ۶۵۵ سعدی‌نامه یا بوستان را به نظم درآورد و در سال بعد (۶۵۶) گلستان را تألیف کرد. علاوه بر این‌ها قصاید، غزلیات، قطعات، ترجیع‌بند، رباعیات و مقالات و قصاید عربی نیز دارد که همه را در کلیات وی جمع کرده‌اند. وی بین سال‌های ۶۹۰ تا ۶۹۴ هجری قمری در شیراز درگذشت و در همان‌جا به خاک سپرده شد.

با توجه به متن بالا به پرسش‌های ۱۰ و ۱۱ پاسخ دهید:

۱۰- سعدی حدوداً در چند سالگی بوستان را تألیف کرده است؟

(۱) ۳۰ تا ۵۰ سالگی (۲) ۴۰ تا ۵۵ سالگی (۳) ۲۵ تا ۶۵ سالگی (۴) ۴۰ تا ۶۵ سالگی

۱۱- سعدی در چند قالب شعری شعر سروده است؟

(۱) پنج قالب (۲) شش قالب (۳) هفت قالب (۴) هشت قالب

۱۲- کدام یک از گزینه‌های زیر در مورد عمومی علی حتماً درست است؟

- (۱) سن او بیشتر از ۲۰ سال است
(۲) فرزند دارد.
(۳) خواهر دارد.
(۴) برادر دارد.

* با توجه به واژه‌های زیر، به پرسش‌های ۱۳ تا ۱۶ پاسخ دهید.

- تهمت - ثواب - جالیز - ریشخند - کند
معاوضه - ابتدا - رایحه - فقیه - صومعه
متواضع - وارونه - بالیدن - تلخیص - خارا
حریق - گوهر - لاشه - نخست - محبوب
چابک - زاری - تازیانه - ملول - وسواس

۱۳- کدام دو ردیف دارای واژه‌ای با معنای یکسان هستند؟

- (۱) اول و دوم
(۲) دوم و چهارم
(۳) دوم و پنجم
(۴) اول و پنجم

۱۴- کدام دو ردیف دارای واژه‌ی متضاد هستند؟

- (۱) اول و سوم
(۲) دوم و چهارم
(۳) سوم و پنجم
(۴) اول و پنجم

۱۵- واژه‌ی «حیب» با واژه‌ای در کدام ردیف رابطه‌ای مثل رابطه‌ی «حضور» و «احضار» دارد؟

- (۱) ردیف چهارم
(۲) ردیف سوم
(۳) ردیف دوم
(۴) ردیف اول

۱۶- کلمه‌های مورد نظر به ترتیب در کدام ردیف‌ها آمده است؟

- الف) کسی که به احکام شرع عالم باشد.
ب) نوعی سنگ سخت
ج) مترادف غمگین و آزرده
د) نسبت دادن گمان و کار بد و ناروا به کسی
(۱) دوم، سوم، پنجم، چهارم
(۲) دوم، سوم، پنجم، اول
(۳) اول، سوم، چهارم، دوم
(۴) دوم، چهارم، اول، پنجم



«آزمون آنلاین استعداد تحلیلی» - ششم دبستان

«۷ خرداد»

* با توجه به متن زیر به سؤالات ۱۷ تا ۲۰ پاسخ دهید.

در کل طول تاریخ تفاوت بین افراد پیر و جوان همواره یکی از مباحث چالش برانگیز بوده است. والدین بر روی کودکان خود تسلط دارند ولی با بزرگ تر شدن کودکان، آن‌ها شروع به اعمال فشار بر والدین خود می‌کنند. آن‌ها قوانین را به بوت‌های آزمایش می‌کشند، شورش می‌کنند و قوانین خود را ایجاد می‌کنند. والدین سر در گم می‌شوند، ناامید می‌شوند و در مورد جابه‌جایی توازن قدرت، ناراحت و عصبانی می‌شوند. آن‌ها نیز دست به مبارزه می‌زنند؛ سعی می‌کنند پسران و دختران خود را کنترل کنند و تلاش به حفظ قدرت خود می‌کنند، ولی با پیرتر شدن آن‌ها مجبور به رها کردن آن می‌شوند؛ دستان خود را بالا می‌برند و تسلیم می‌شوند.

جنگ بین پیر و جوان یکی از ویژگی‌های قرن بیست و یکم شده است به طوری که به دوره‌ای نزدیک می‌شویم که در آن توازن قوا به یک قلمرو جدید کشیده می‌شود. این بدان معنا نیست که روابط بین نسل‌ها می‌تواند بدتر شود بلکه به معنای تغییرات جمعیت‌شناسی جدید است که در راه است و تأثیراتی را با خود خواهد آورد که هنوز نمی‌توانیم تصور کنیم.

۱۷- طبق متن شکاف بین پیر و جوان

(۱) در تاریخ زندگی انسان چیز جدیدی نیست. (۲) به نفع پیرها تغییر کرده است.

(۳) در طول سال‌ها کم‌تر و کم‌تر شده است. (۴) در قرن بیست و یکم ایجاد شده است.

۱۸- کلمه‌ی «رها کردن» در پاراگراف «۱»، نزدیک‌ترین معنا را دارد به

(۱) کسب مجدد (۲) ترک کردن (۳) تقویت (۴) تبعیت

۱۹- کدام یک از موارد زیر به بهترین وجه، عملکرد این عبارت «این بدان معنا نیست که ...» در پاراگراف دوم را توضیح می‌دهد؟

(۱) نتیجه‌گیری منطقی (۲) تکرار جمله پیشین

(۳) معرفی یک موضوع جدید برای بحث (۴) برای پیشگیری از سوء تفاهم احتمالی

۲۰- به ترتیب از راست به چپ منظور از واژه‌ی «آن‌ها» در خط‌های چهارم و پنجم چه کسانی هستند؟

(۱) والدین - فرزندان (۲) والدین - والدین (۳) فرزندان - فرزندان (۴) فرزندان - والدین

جهت شرکت در آزمون‌ها و کلاس‌های رایگان عضو کانال

تلگرامی استادلاین یا تیزهوشان ششم شوید

ostadline@

tizhooshan_6@

09204647480

هوش ریاضی و منطقی

۲۱- حاصل عبارت زیر کدام است؟

$$\frac{60 \div 5 \times (7 - 5)}{9 - 3 \div \frac{1}{3} + 1} =$$

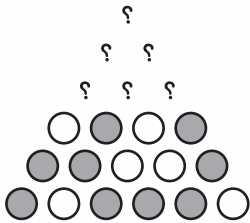
۳ (۴)

۶ (۳)

۱۲ (۲)

۲۴ (۱)

۲۲- در شکل زیر، ردیف‌ها طبق الگوی مشخصی روی هم چیده شده‌اند. اگر مطابق این الگو شکل را کامل کنیم، نسبت تعداد دایره‌های رنگی به تعداد دایره‌های سفید کدام است؟



۴ به ۷ (۴)

۳ به ۴ (۳)

۷ به ۳ (۲)

۴ به ۳ (۱)

۲۳- دوازده نفر کاری را در ۲۰ روز تمام می‌کنند. پس از گذشت ۵ روز نیمی از کارگران دست از کار می‌کشند. بقیه‌ی کار در چند روز تمام می‌شود؟

۳۰ روز (۴)

۲۵ روز (۳)

۲۰ روز (۲)

۱۰ روز (۱)

۲۴- عدد صدم الگوی زیر کدام است؟

۳, ۷, ۱۳, ۲۱, ۳۱, ...

۱۰۳۰۵ (۴)

۱۰۲۰۱ (۳)

۱۰۱۰۱ (۲)

۱۰۰۰۰ (۱)

۲۵- پول سعید ۳۰ درصد از پول حمید کمتر و ۴۰ درصد از پول وحید بیشتر است. اگر پول سعید ۴۲۰ هزار تومان باشد، اختلاف پول حمید و وحید چند تومان است؟

۴۰۰۰۰۰ (۴)

۳۰۰۰۰۰ (۳)

۲۰۰۰۰۰ (۲)

۱۰۰۰۰۰ (۱)

۲۶- پزشک برای مریم تعداد ۹ عدد قرص تجویز کرده است که هر ۱۰ روز یک بار باید این قرص را بخورد. اگر او اولین قرص را در روز سه‌شنبه ۲۰ شهریور خورده باشد، زمان مصرف آخرین قرص او چه روزی است؟

۲ پنج‌شنبه ۹ آذر

۱ جمعه ۹ آذر

۴ دوشنبه ۲۹ آبان

۳ سه‌شنبه ۲۹ آبان

۲۷- شهرداد رابطه‌ی خودش با شهروز را به این صورت بیان می‌کند: من پسرِ تنها برادرِ همسرِ پدرش هستم. شهروز چه نسبتی با شهرداد دارد؟

- (۱) پسرعمه (۲) برادر (۳) پسر دایی (۴) دایی

۲۸- یک شیر تخلیه می‌تواند در مدت یک دقیقه، $\frac{5}{8}$ سینک ظرفشویی را خالی کند و یک شیر آب می‌تواند در مدت یک

دقیقه، $\frac{3}{4}$ همان سینک را پر کند. اگر شیر تخلیه و شیر آب هر دو با هم باز باشند، چقدر طول می‌کشد تا سینک پر شود؟

- (۱) ۳ دقیقه (۲) ۵ دقیقه (۳) ۶ دقیقه (۴) ۸ دقیقه

۲۹- یک کتاب را که قیمت آن ۱۲۰ هزار تومان است با ۲۰ درصد تخفیف خریدیم و بعد از خرید، ۱۰ درصد مبلغ خرید را بابت هزینه‌ی پست دادیم. در کل برای خرید کتاب چقدر پرداخت کردیم؟

- (۱) ۱۱۲۰۰۰ (۲) ۱۰۵۶۰۰ (۳) ۱۳۱۴۰۰ (۴) ۹۶۰۰۰

۳۰- داخل سبد جوایز شهربازی، به ازای هر تیری که به هدف می‌زنید یک توپ از داخل جعبه‌ی جوایز خارج می‌شود.

توپ‌ها در رنگ‌های سبز، زرد و قرمز می‌باشند. علی تیرانداز ماهری است و همه‌ی تیرهایش به هدف می‌خورد. اگر بخواهد مطمئن شود حداقل سه توپ هم‌رنگ دارد باید چند تیر را به هدف بزند؟

- (۱) ۵ (۲) ۷ (۳) ۴ (۴) ۶

۳۱- محمد هر روز ۲ برابر روز قبل کار می‌کند. او کاری را در ۶ روز تمام کرده است. در روز آخر چه کسری از کل کار را تمام کرده است؟

- (۱) $\frac{1}{2}$ (۲) $\frac{6}{17}$ (۳) $\frac{31}{63}$ (۴) $\frac{32}{63}$

۳۲- رقم ۲ در چند عدد ۲ رقمی دیده می‌شود؟

- (۱) ۲۰ (۲) ۱۹ (۳) ۱۸ (۴) ۱۷

۳۳- یک منبع پلاستیکی ۳۷۰ لیتر آب بیش‌تر از یک منبع فلزی دارد. به‌وسیله‌ی یک لوله، ۹۰ لیتر آب منبع پلاستیکی وارد منبع فلزی می‌شود. حالا منبع پلاستیکی چند لیتر آب بیش‌تر از منبع فلزی دارد؟

- (۱) ۲۸۰ (۲) ۱۹۰ (۳) ۴۶۰ (۴) ۳۲۵

۳۴- پرهام ساعت عقربه‌ای خود را طوری روی میز تحریر قرار داد که در ساعت ۶ عقربه‌ی ساعت‌شمار در جهت جنوب غربی قرار گرفت. در ساعت ۴:۲۲ عقربه‌ی دقیقه‌شمار این ساعت چه جهتی را نمایش می‌دهد؟

- (۱) شمال (۲) شمال غربی (۳) جنوب شرقی (۴) شرق

«آزمون آنلاین استعداد تحلیلی» - ششم دبستان

«۷ خرداد»

۳۵- می‌خواهیم ۴۰۰۰۰ تومان پول را بین سه نفر به نام‌های علی، رضا و حمید تقسیم کنیم. اگر نسبت پول رضا به علی

برابر با $\frac{5}{2}$ و نسبت پول علی به حمید برابر با $\frac{2}{3}$ باشد، در این صورت اختلاف پول رضا و حمید چند تومان است؟

- (۱) ۲۰۰۰۰ (۲) ۴۰۰۰ (۳) ۱۲۰۰۰ (۴) ۸۰۰۰

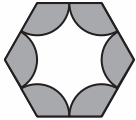
۳۶- حسنا، مینا، نیلوفر، سما و شیما به ترتیب در یک صف ۵ نفره در کنار هم ایستاده‌اند، طوری که حسنا در ابتدای صف قرار دارد.

در هر دفعه نفر اول صف به انتهای صف می‌رود و این کار تکرار می‌شود، پس از ۲۲ بار نفر وسط صف چه کسی است؟

- (۱) حسنا (۲) شیما (۳) نیلوفر (۴) سما

۳۷- مطابق شکل در یک شش‌ضلعی که طول تمام اضلاع آن یکسان و برابر ۴ است، به مرکز هر رأس از شش‌ضلعی

دایره‌هایی با شعاع‌های یکسان رسم می‌کنیم. مساحت قسمت رنگی کدام است؟ (۳ = عدد پی)



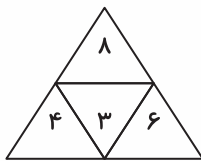
- (۱) ۳۲ (۲) ۲۴ (۳) ۱۲ (۴) ۱۸

۳۸- در جدول زیر رابطه‌ی مشخصی میان اعداد وجود دارد. حاصل ضرب دو عددی که با علامت ؟ مشخص شده‌اند کدام است؟

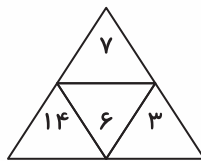
۴	۳	۲	۸
۵	۴	۰	۶
۱	۲	۴	؟
۷	؟	۳	۴

- (۱) ۱۴ (۲) ۶ (۳) ۱۲ (۴) ۱۸

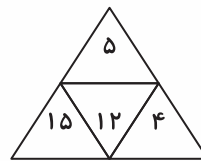
۳۹- در شکل‌های زیر رابطه‌ی مشخصی میان اعداد برقرار است. به جای علامت ؟ کدام عدد قرار می‌گیرد؟



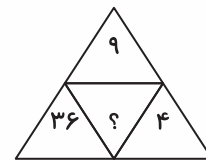
۴ (۴)



۱۸ (۳)



۱۲ (۲)



۱۶ (۱)

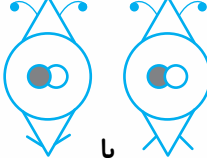
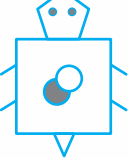
۴۰- علی ابتدا به طور کامل به سمت چپ می‌چرخد، ده قدم جلو می‌رود، سپس دوباره به طور کامل به سمت چپ می‌چرخد

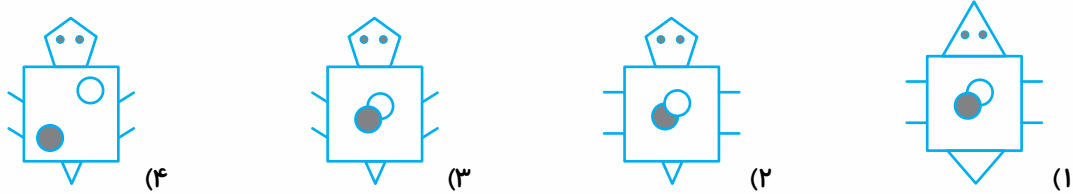
و ۲۰ قدم دیگر به جلو می‌رود. سپس می‌ایستد و به طور کامل به عقب برمی‌گردد. اکنون علی رو به جهت شرق

ایستاده است. مکان اولیه‌ی علی در جهت مکان نهایی علی قرار دارد.

- (۱) شمال غربی (۲) شمال شرقی (۳) جنوب شرقی (۴) جنوب غربی

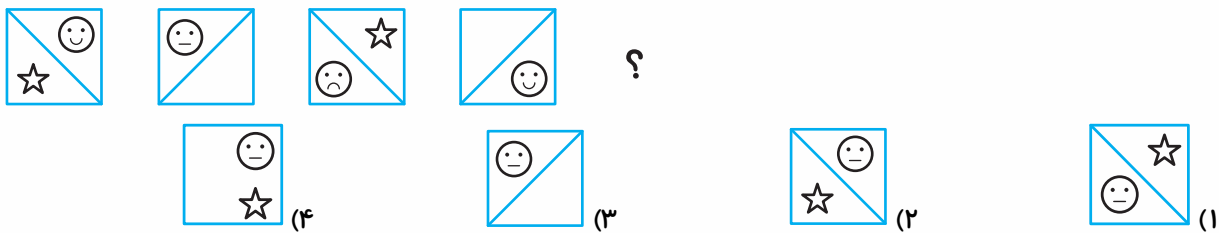
هوش تصویری فضایی

۴۱- رابطه‌ی با  مانند رابطه‌ی  با است.

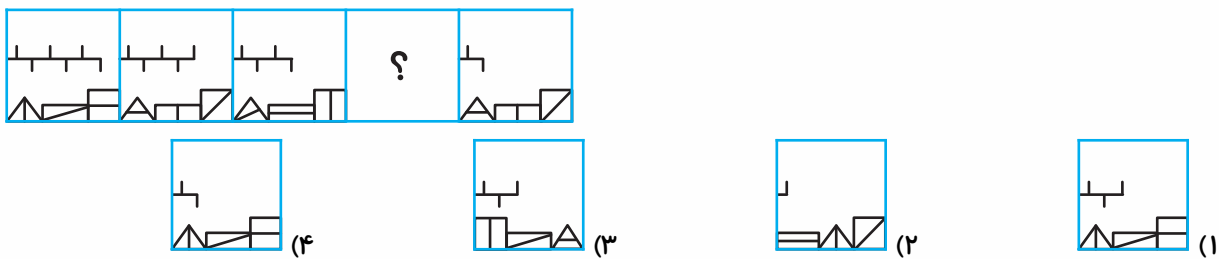


* در هر یک از سوالات ۴۲ تا ۴۵ با توجه به الگوی داده شده به جای علامت سؤال کدام گزینه قرار می‌گیرد؟

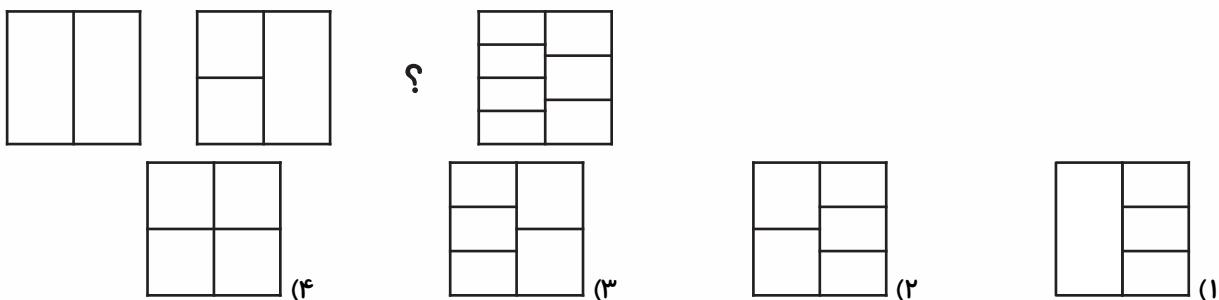
۴۲-



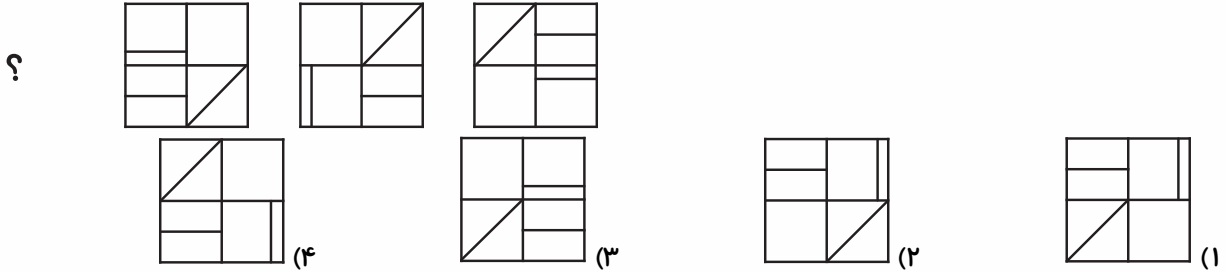
۴۳-



۴۴-

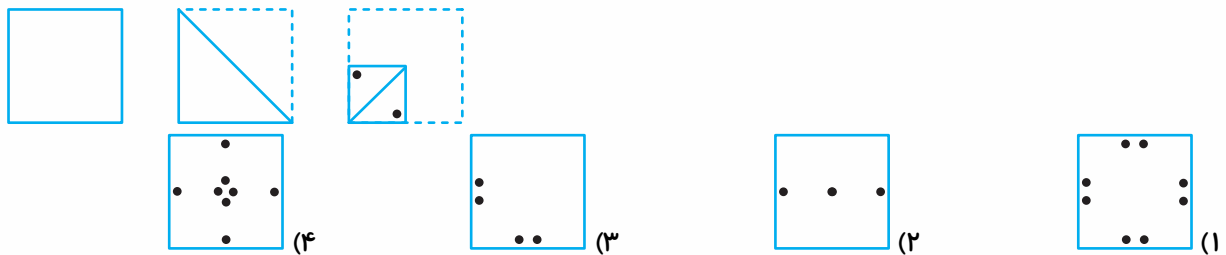


۴۵-

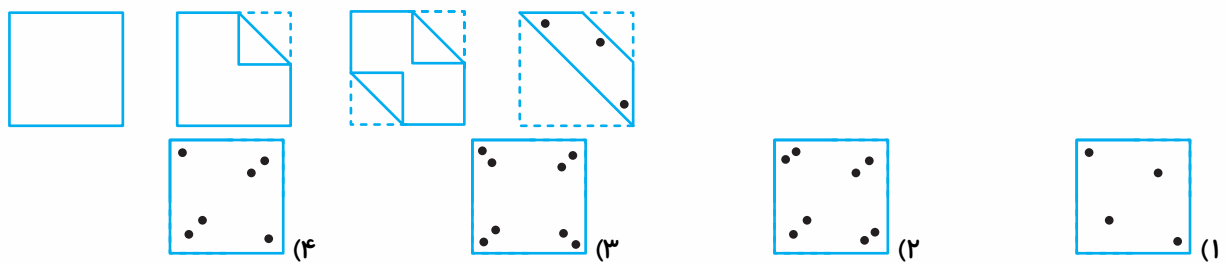


* در هر یک از سؤالات ۴۶ و ۴۷ کاغذی را مطابق شکل تا زده و سوراخ‌هایی در آن ایجاد می‌کنیم. بعد از باز کردن کاغذ چه شکلی دیده خواهد شد؟

۴۶-




۴۷-




* در هر یک از سؤالات ۴۸ و ۴۹ کدام گزینه تصویر در آینه شکل داده شده است؟

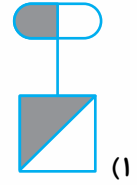
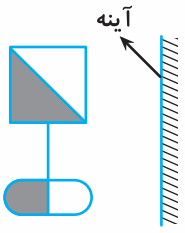
۴۸-



@ostadline
@tizhooshan_6

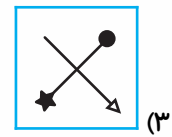
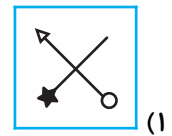
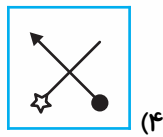
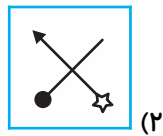



۴۹-

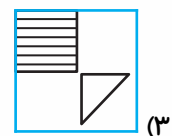
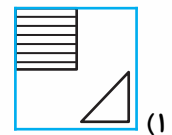
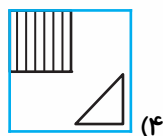
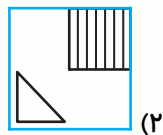
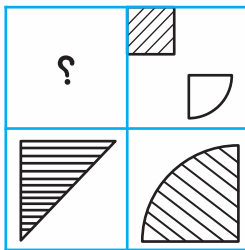


* در هر یک از سوالات ۵۰ تا ۵۳ به جای علامت سؤال کدام گزینه قرار می‌گیرد؟


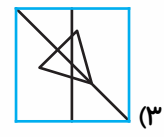
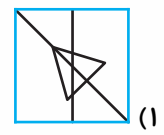
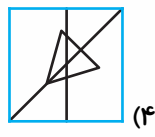
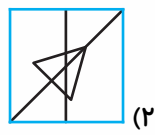
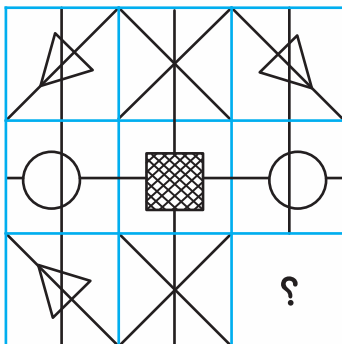
۵۰-



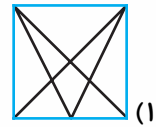
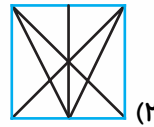
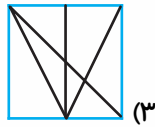
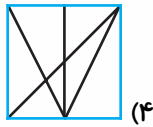
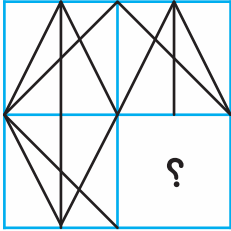
۵۱-



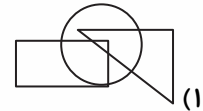
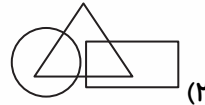
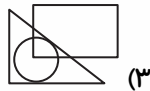
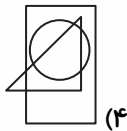
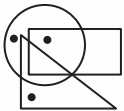
۵۲-



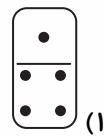
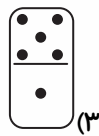
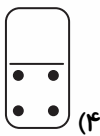
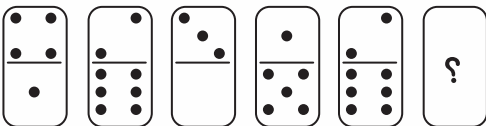
۵۳-



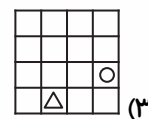
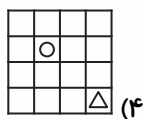
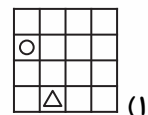
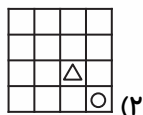
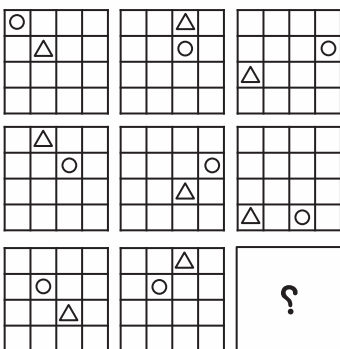
۵۴- ناحیه‌هایی از تصویر زیر که درون آن نقطه وجود دارد، در کدام گزینه دیده می‌شود؟

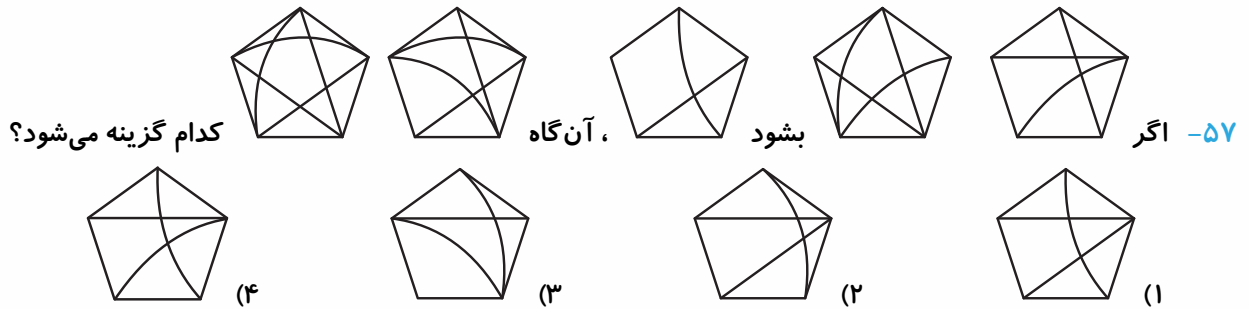


۵۵- در دومینوی زیر به جای علامت‌های ؟ کدام گزینه مناسب‌تر است که قرار بگیرد؟

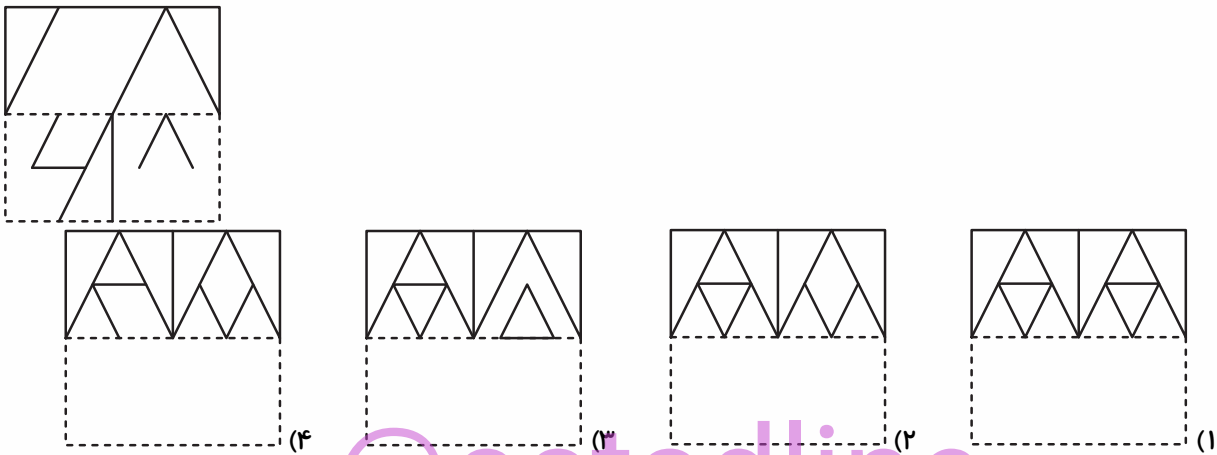


۵۶- به جای علامت سؤال کدام جدول قرار می‌گیرد؟

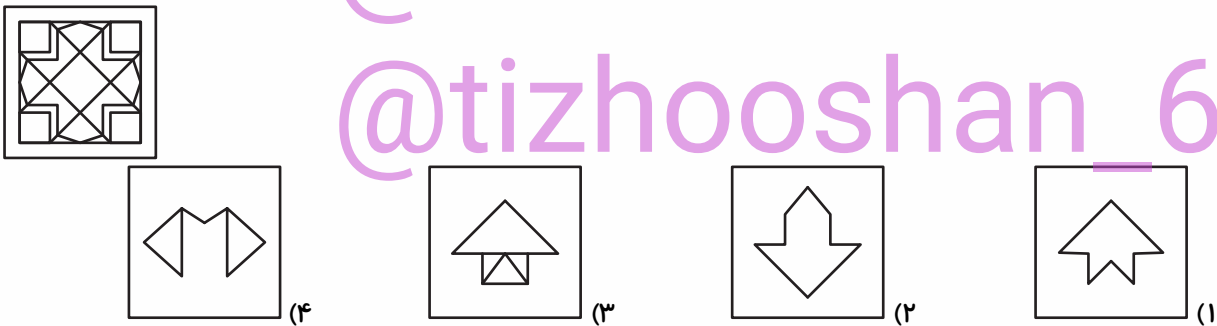




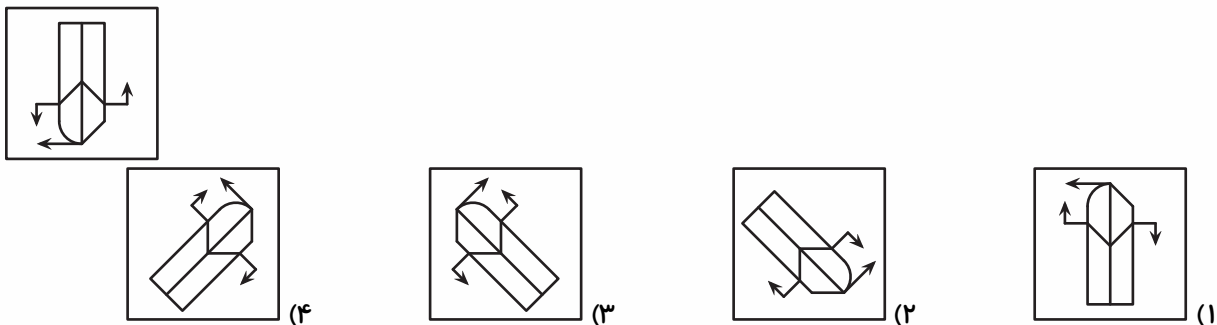
۵۸- یک ورق کاغذ شفاف مطابق شکل زیر داریم و آن را از محل نقطه چین تا می‌کنیم، کدام شکل ایجاد می‌شود؟



۵۹- تصویر کدام گزینه در تصویر زیر پنهان شده است؟



۶۰- کدام گزینه دوران یافته‌ی شکل داده شده است؟



هوش سرعت و دقت

۶۱- اگر یک واحد از عدد ۱۰۱۰۱۱۰۰۰ کم کنیم، چه عددی می‌شود؟

۱۰۱۰۱۱۰۰۹ (۲)

۱۰۱۰۱۰۹۹۹ (۱)

۱۰۱۰۱۱۹۹۹ (۴)

۱۰۱۰۱۱۰۹ (۳)

۶۲- در کدام گزینه اعداد دو طرف یکسان است؟

۱۳۵۷۹۸۵۶۴۱۲۳۵۸۹

(۱)

۱۳۵۷۹۷۵۶۴۱۲۳۵۸۹

۴۲۶۵۸۹۱۳۳۴۵۴۲۶۶۵۲

(۲)

۴۲۶۵۸۹۱۳۳۴۵۴۲۶۶۵۲

۹۸۶۵۷۷۴۲۳۴۱۲۶

(۳)

۹۸۶۵۷۷۱۲۳۴۱۲۶

۴۵۳۲۸۹۷۱۵۶۸۴

(۴)

۴۵۳۲۸۹۷۱۵۲۸۴

۶۳- در کدام گزینه اعداد دو طرف متفاوت است؟

۹۵۴۷۸۱۲۳۵۶۸۴۶۲۶

(۱)

۹۵۴۷۸۱۲۳۵۶۸۴۶۲۶

۱۳۵۴۲۸۹۶۷۱۲۲

(۲)

۱۳۵۴۲۸۹۶۷۱۲۲

۷۶۵۲۳۴۸۹۷۱۲۸

(۳)

۷۶۵۲۳۴۸۹۷۱۲۸

۵۲۶۷۸۶۲۶۵۴۲۱۳۵۷

(۴)

۵۲۶۷۸۶۲۶۵۴۲۱۳۵۷

۶۴- تصویر  در چند مورد از اشکال زیر موجود است؟



(۲) دو








(۱) یک

(۴) چهار

(۳) سه





*رضا اشکال هندسی را با اندازه‌های متفاوت و اعداد مختلف نشان می‌دهد. برای مثال:

شکل  را با عدد ۸ و شکل  را با عدد ۶ نشان می‌دهد. او همچنین شکل  را با عدد ۶۸ نشان می‌دهد.


						
۳۴	۹۷	۶۸	۶۴	۲۷	۹۰	۱۵

با توجه به جدول بالا به سؤالات ۶۵ تا ۷۰ پاسخ دهید.

در هر یک از سؤالات ۶۵ تا ۶۸ کد مربوط به شکل داده شده کدام است؟

- ۶۵-  ۲۵ (۱) ۲۰ (۲) ۵۷ (۳) ۷۵ (۴)
- ۶۶-  ۶۰ (۱) ۶۱ (۲) ۴۰ (۳) ۶۹ (۴)
- ۶۷-  ۴۹ (۱) ۷۴ (۲) ۳۸ (۳) ۳۶ (۴)
- ۶۸-  ۳۲ (۱) ۲۴ (۲) ۳۷ (۳) ۲۳ (۴)

۶۹- عدد مربوط به کدام گزینه عدد بزرگ‌تری نسبت به بقیه است؟


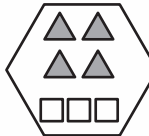
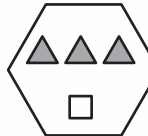
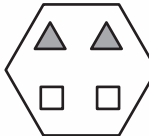
-  (۴)  (۳)  (۲)  (۱)

۷۰- عدد مربوط به کدام گزینه عدد کوچک‌تری نسبت به بقیه است؟

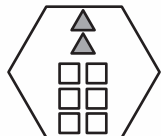
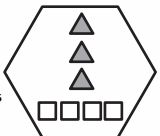


-  (۴)  (۳)  (۲)  (۱)

* در هر یک از سؤالات ۷۱ تا ۷۵ در هر سوال ۳ شکل به همراه مجموع دو عدد داده شده است؛ که این دو عدد




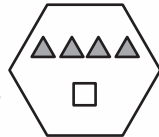
رابطه‌ای با تعداد مثلث‌ها و مربع‌ها دارند. با یافتن رابطه، برای شکل چهارم رابطه‌ی مربوطه را بیابید.

- ۷۱-  = ? ،  = ۵ + ۳ ،  = ۴ + ۱ ،  = ۳ + ۲
- ۳ + ۶ (۴) ۲ + ۳ (۳) ۳ + ۷ (۲) ۳ + ۳ (۱)

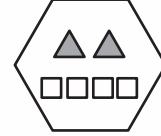



«آزمون آنلاین استعداد تحلیلی» - ششم دبستان
«۷ خرداد»

 = ? ,
  = 1+1 ,
  = 2+3 ,
  = 4+2 -۷۲




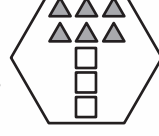
1+2 (۴) 2+6 (۳) 1+3 (۲) 2+2 (۱)

 = ? ,
  = 0+4 ,
  = 5+6 ,
  = 1+2 -۷۳

3+6 (۴) 2+4 (۳) 3+4 (۲) 2+8 (۱)

 = ? ,
  = 3+2 ,
  = 2+1 ,
  = 4+2 -۷۴

2+3 (۴) 1+2 (۳) 2+4 (۲) 1+3 (۱)

 = ? ,
  = 0+4 ,
  = 0+3 ,
  = 1+2 -۷۵

2+4 (۴) 2+5 (۳) 3+5 (۲) 3+4 (۱)

با توجه به جدول زیر به سوالات ۷۶ تا ۸۰ پاسخ دهید.

ستون اول

سطر اول	ظ	ط	س	ج	ع	ی	ل	ت	ک	ت
	ل	م	ی	ع	ش	س	س	ل	ب	م
	ک	س	ظ	س	س	چ	ی	ک	ط	ک
	س	ی	م	س	ب	د	ل	م	و	ی
	پ	ط	ر	ش	ظ	پ	ل	ر	ش	ق
	ب	م	ک	چ	ل	ا	م	ش	ر	م
	ع	ظ	س	ط	ی	ط	ک	س	ع	ظ
	ل	س	م	ی	ظ	ط	م	د	ی	ظ

۷۶- در جدول فوق چند بار حرف (م) در ردیف‌های زوج آمده است؟

۹ (۴)

۸ (۳)

۷ (۲)

۶ (۱)



«آزمون آنلاین استعداد تحلیلی» - ششم دبستان
«۷ خرداد»

۷۷- در جدول فوق چند بار حرف (س) در ستون‌های فرد تکرار شده است؟

۶ (۱) ۷ (۲) ۸ (۳) ۹ (۴)

۷۸- با توجه به جدول فوق کدام گزینه درست است؟

(۱) در ردیف سوم ۴ بار حرف (ک) آمده است.
(۲) در ستون سوم و پنجم حرف (د) دیده نمی‌شود.
(۳) در ردیف‌های فرد حرف (ب) دیده نمی‌شود.
(۴) در هر ستون زوج حرف (ک) وجود دارد.

۷۹- با توجه به جدول فوق کدام گزینه نادرست است؟

(۱) در ردیف دوم ۲ بار حرف (ل) وجود دارد.
(۲) در ستون ششم و هفتم حرف (س) مشترک است.
(۳) در ردیف پنجم ۸ حرف متفاوت وجود دارد.
(۴) در ستون هفتم ۲ حرف سه نقطه‌ای وجود دارد.

۸۰- با توجه به حروف موجود در جدول کدام کلمه را نمی‌توان ساخت؟

(۱) پادشاه (۲) پدرام (۳) کیارش (۴) مسعود

با توجه به جدول زیر به سؤالات ۸۱ تا ۸۵ پاسخ دهید.

ش	س	ژ	ز	ر	ذ	د	خ	ح	چ	ج	ث	ت	پ	ب	آ
۱۶	۱۵	۱۴	۱۳	۱۲	۱۱	۱۰	۹	۸	۷	۶	۵	۴	۳	۲	۱
ص	ض	ط	ظ	ع	غ	ف	ق	ک	گ	ل	م	ن	و	ه	ی
۱۷	۱۸	۱۹	۲۰	۲۱	۲۲	۲۳	۲۴	۲۵	۲۶	۲۷	۲۸	۲۹	۳۰	۳۱	۳۲

هر حرف موجود در جدول، دارای عدد اختصاصی همان حرف می‌باشد برای مثال کلمه‌ی مادر به صورت ۲۸۱۱۰۱۲

نوشته می‌شود. (ر = ۱۲، د = ۱۰، آ = ۱، م = ۲۸)

۸۱- کلمه‌ی «آزمون» به چه صورت نوشته می‌شود؟

۱۱۳۱۲۲۰۲۹ (۱) ۲۹۱۳۱۳۰۲۱ (۲)

۱۱۳۲۸۳۰۲۹ (۳) ۱۱۳۳۰۲۸۲۹ (۴)

۸۲- کلمه‌ی «تیزهوشان» به چه صورت نوشته می‌شود؟

۴۳۲۱۳۳۱۳۰۱۶۱۲۹ (۱) ۴۳۲۱۳۲۱۳۰۶۱۲۹۱ (۲)

۲۳۴۳۱۲۶۰۱۲۹ (۳) ۴۲۳۱۳۳۱۳۰۱۶۱۲۹ (۴)

۸۳- کد کدام کلمه درست است؟

(۱) چشم = ۷۱۵۲۸ (۲) بینی = ۲۳۲۲۹۳۲

(۳) دست = ۱۰۱۴۵ (۴) گوش = ۲۶۳۰۶

«آزمون آنلاین استعداد تحلیلی» - ششم دبستان
«۷ خرداد»

۸۴- کد کدام کلمه نادرست است؟

(۲) دفتر = ۱۰۲۳۴۱۲

(۱) کتاب = ۲۵۴۱۲

(۴) کیف = ۲۵۲۳۳۲

(۳) مداد = ۲۸۱۰۱۱۰

۸۵- کد ۲۹۱۲۰۲۸ مربوط به کدام کلمه است؟

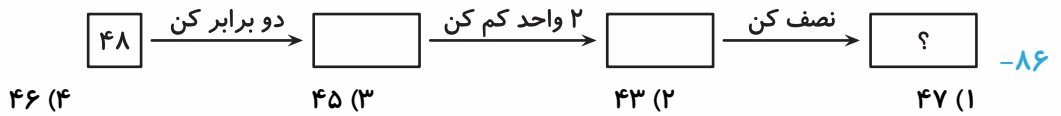
(۴) نادم

(۳) ناظم

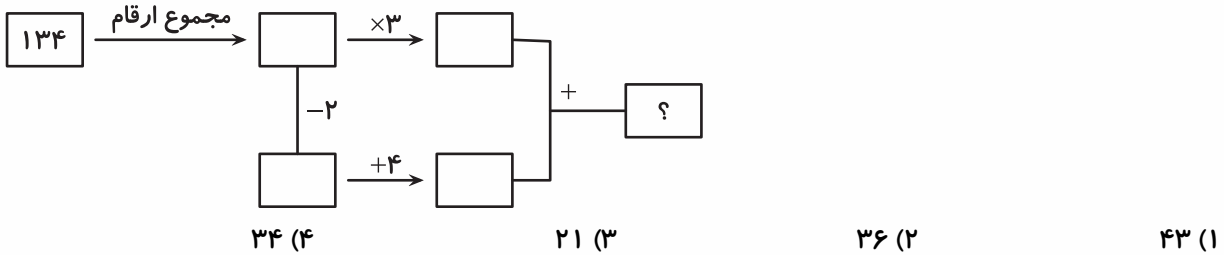
(۲) نادر

(۱) ناصر


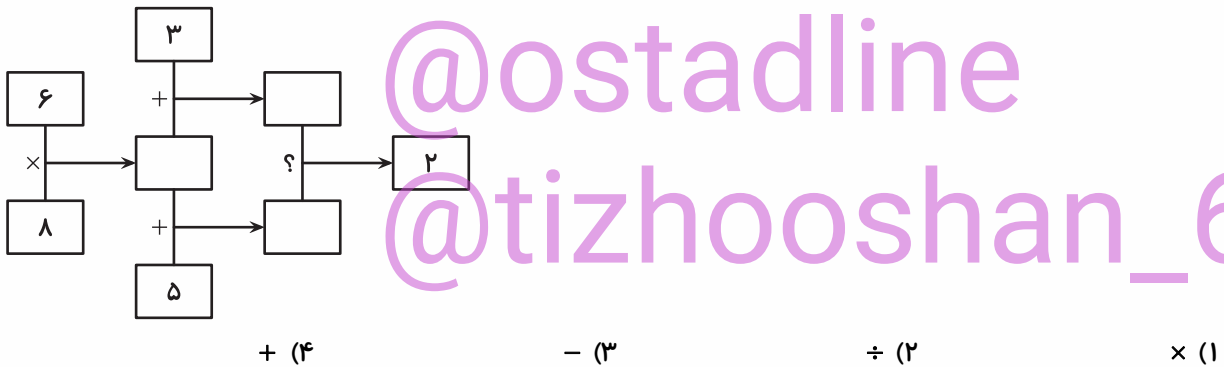
در سوالات ۸۶ تا ۹۰ با توجه به ورودی، کدام گزینه به جای علامت سؤال قرار می‌گیرد؟



۸۷-

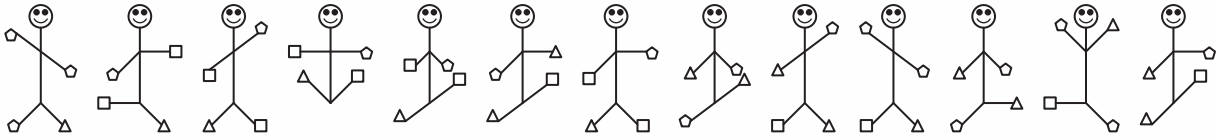


۸۸-

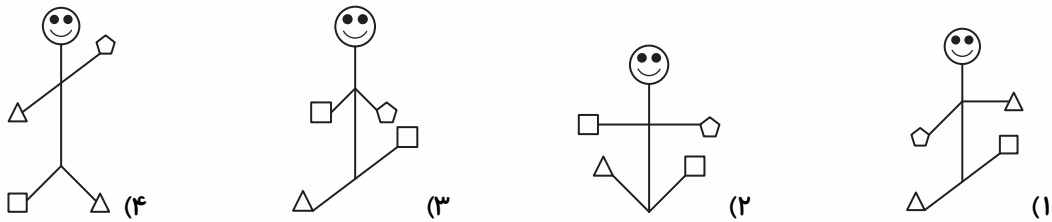


در شکل زیر تعدادی آدمک در کنار هم قرار گرفته‌اند. با توجه به نحوه قرار گرفتن آنها به هر یک از ۱۰ سوال بعدی

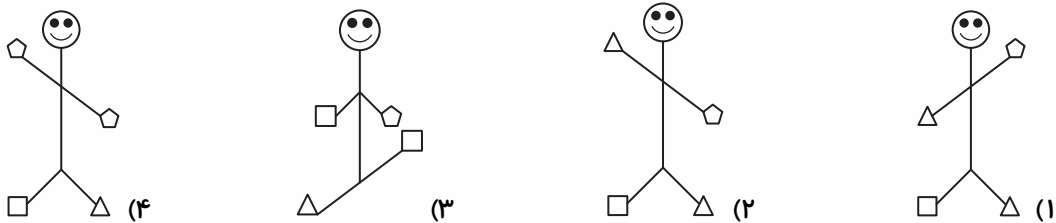
پاسخ دهید:



۹۱- از سمت راست آدمک نهم به چه شکلی است؟



۹۲- از سمت چپ، سومین شکل بعد از  چه شکلی است؟



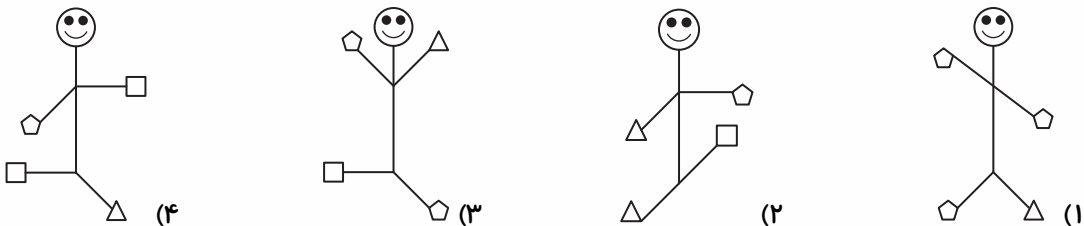
۹۳- چند بار علامت  در دست یا پاهای آدمک‌ها دیده می‌شود؟

۱۴ (۱) ۱۵ (۲) ۱۶ (۳) ۱۷ (۴)

۹۴- چند بار علامت دست راست یک آدمک با علامت دست چپ آدمک کناری سمت راست خود یکسان است؟

۵ (۱) ۷ (۲) ۶ (۳) ۸ (۴)

۹۵- اگر از آدمک وسط به سمت چپ حرکت کنیم، ششمین آدمک به چه شکلی است؟



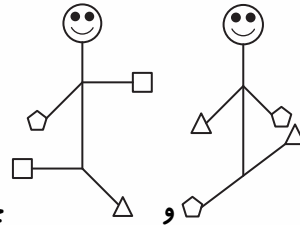
۹۶- در چند آدمک، در دست یا پای آنها علامت □ دیده می‌شوند؟

۱۲ (۴)

۱۱ (۳)

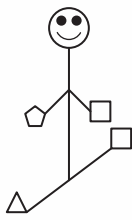
۱۰ (۲)

۹ (۱)

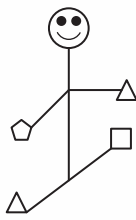


چه آدمکی دیده می‌شود؟

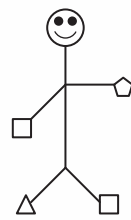
۹۷- دقیقاً وسط آدمک‌های



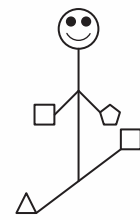
(۴)



(۳)



(۲)



(۱)

۹۸- در دست چپ چند آدمک علامت ◡ دیده می‌شود؟

۱۰ (۴)

۹ (۳)

۶ (۲)

۵ (۱)

۹۹- در چند آدمک، علامت دست راست با علامت پای چپ همان آدمک یکسان است؟

۵ (۴)

۶ (۳)

۸ (۲)

۷ (۱)

۱۰۰- در چند آدمک، پای راست و دست چپ به سمت پایین است؟

۵ (۴)

۴ (۳)

۶ (۲)

۷ (۱)

جهت شرکت در آزمون‌ها و کلاس‌های رایگان عضو کانال
تلگرامی استادلاین یا تیزهوشان ششم شوید

@ostadline

@tizhooshan_6

09204647480